

令和 4 年度

高等学校入学者選抜学力検査問題

社 会

注 意 事 項

- 1 問題は，1 ページから 7 ページまであります。
- 2 解答は，すべて解答用紙に記入しなさい。

1 次の略年表を見て、(1)～(7)の問いに答えなさい。(18点)

時代	あすか 飛鳥	な 奈 ら 良	平 安	鎌 倉	室 町	あ 安 桃 づち 土 山	江 戸	明 治	大 正	昭 和	平 成
日本のできごと	① 大化の改新が始まる	② 莊園がで き始める	③ 国風文化が栄える	④ 鎌倉幕府がほろびる	⑤ ヨーロッパ人が来航する	⑥ 太閤検地が始まる	← (A) →	⑦ 産業革命が進む	大正デモクラシーが始まる	⑧ 国際連合に加盟する	京都議定書が採択される

(1) 傍線部①に関する a, b の問いに答えなさい。

- a 傍線部①とよばれる政治改革を始め、のちに即位して天智天皇となった人物はだれか。その人物名を書きなさい。
- b 次の [] の中の文は、傍線部①が始まった後におこったできごとについてまとめたものである。文中の (㊸), (㊹) に当てはまる語として正しい組み合わせを、次のア～エの中から1つ選び、記号で答えなさい。

朝鮮半島に大軍を送った倭(日本)は、唐と(㊸)の連合軍と戦った。この(㊹)に敗れた倭(日本)は朝鮮半島から退いた。その後、朝鮮半島は(㊸)によって統一された。

- ア ㊸ 百済 ㊹ 白村江の戦い イ ㊸ 新羅 ㊹ 白村江の戦い
ウ ㊸ 百済 ㊹ 壬申の乱 エ ㊸ 新羅 ㊹ 壬申の乱

(2) 傍線部②の特色の1つとして、かな文字が発達したことがあげられる。かな文字を用いて、清少納言が書いた随筆は何とよばれるか。その名称を書きなさい。

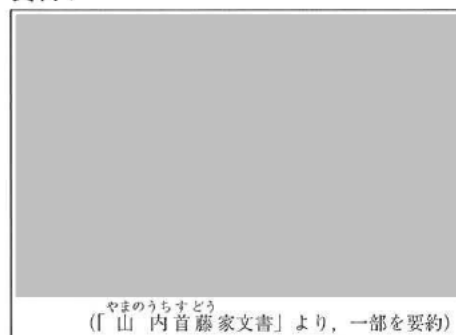
(3) 傍線部③に関する a～c の問いに答えなさい。

- a 元寇(モンゴル帝国の襲来)の後に、傍線部③が行ったことを、次のア～エの中から1つ選び、記号で答えなさい。

- ア 御成敗式目を制定した。 イ 銀閣を建てさせた。
ウ 勘合貿易を始めた。 エ 徳政令を出した。

- b 資料1は、鎌倉時代に、ある御家人が、自らの家の相続について書いた文書の一部を要約したものである。資料1から、この文書を書いた御家人は、相続方法を変えたことが分かる。資料1から読み取れる、この御家人が相続方法を変えた理由を、今までの相続方法を続けた場合におこる領地への影響とあわせて、簡単に書きなさい。

資料1



- c 後醍醐天皇は、傍線部③に不満を持つ悪党や武士を味方につけて、傍線部③をほろぼした。傍線部③をほろぼした後醍醐天皇が中心となって行った政治は何とよばれるか。その名称を書きなさい。

(4) 図1は、傍線部④などの来航のようすが描かれたものである。図1に関する a, b の問いに答えなさい。

a 図1に描かれている傍線部④の多くは、ポルトガル人やスペイン人である。16世紀から17世紀にかけて来日したポルトガル人やスペイン人と、日本人との間で行われた貿易は何とよばれるか。その名称を書きなさい。

b 図1には、宣教師が描かれている。1549年に来日したザビエル以降、イエズス会の宣教師が次々と来日した。ポルトガルがイエズス会の海外布教を支援した理由を、宗教改革の影響が分かるように、簡単に書きなさい。

図1



(5) 次のア～ウは、略年表中の㉠の期間におこったできごとについて述べた文である。ア～ウを時代の古い順に並べ、記号で答えなさい。

ア 田沼意次たぬまおきつぐは、商工業者が株仲間をつくることを奨励した。

イ 徳川綱吉とくがわつなよしは、極端な動物愛護政策である生類憐みの令あわれを出した。

ウ 井伊直弼いのおすけは、幕府の政策に反対する大名や公家くげなどを処罰した。

(6) 明治時代の中期に、日本では傍線部⑤が進んだ。 グラフ1

グラフ1は、1882年と1897年における、日本の輸入総額に占める品目別の輸入額の割合を示している。グラフ1に関する a, b の問いに答えなさい。

a グラフ1から、1897年の綿花の輸入の割合が、1882年よりも上がっていることが分かる。グラ

フ1から考えられる、1882年から1897年の間に、綿花の輸入の割合が上がった理由を、傍線部⑤の影響による綿糸の国内生産量の変化に関連づけて、簡単に書きなさい。

b 1882年における砂糖の主な輸入先は台湾であった。台湾は、1882年から1897年の間に結ばれた条約によって、日本に譲られた。台湾を日本に譲る内容が含まれている条約を、次のア～エの中から1つ選び、記号で答えなさい。

ア 下関条約しもとのせき イ 日米和親条約 ウ ベルサイユ条約 エ ポーツマス条約

(7) 傍線部⑥に関する a, b の問いに答えなさい。

a 日本が傍線部⑥に加盟した年におこった、日本の傍線部⑥への加盟に影響を与えたできごとを、次のア～エの中から1つ選び、記号で答えなさい。

ア ポツダム宣言を受諾した。 イ サンフランシスコ平和条約が結ばれた。

ウ 日本とソ連が国交を回復した。 エ 日中共同声明に調印した。

b 表1は、1945年と2019年における、傍線部⑥の加盟国数を、 表1

地域別に示したものである。表1から、1945年と比べて、2019年の総会における、地域別に見たときの影響力は、南北アメリカが最も低下していると考えられる。表1から考えられる、1945年と比べて、2019年の総会における南北アメリカの影響力が低下している理由を、総会における加盟国の投票権に関連づけて、簡単に書きなさい。

注 国際連合資料により作成

2 次の(1)~(6)の問いに答えなさい。なお、地図1の中の[A]~[E]は県を示している。(12点)

(1) [C]に関するa, bの問いに答えなさい。

a [C]の県庁所在地には、世界文化遺産に登録された原爆ドームがある。[C]の県名を書きなさい。

b [C]の県庁所在地の中心部は、河口付近に広がった平地に位置している。一般に、河口付近には、川が運んできた細かい土砂が堆積して平地ができやすい。河口付近に川が運んできた細かい土砂が堆積してできた平地は何とよばれるか。その名称を書きなさい。

(2) 表2は、2015年における、[A]~[E]の、総人口、65歳以上の人口、総面積、総面積に占める過疎地域の面積の割合を示している。表2から読み取れることとして正しいものを、次のア~エの中から1つ選び、記号で答えなさい。

ア 総面積が小さい県ほど、過疎地域の面積の割合が低い。

イ 総人口が少ない県ほど、過疎地域の面積の割合が低い。

ウ 総面積が大きい県ほど、65歳未満の人口が多い。

エ 総人口が多い県ほど、65歳未満の人口が多い。

(3) 図2は、地図1の八幡浜市と大洲市の、一部の地域を示した地形図である。図2には、-...- (市の境界)が見られる。図2から読み取れる、-...-の西側の土地のようすや利用について述べた文として正しいものを、次のア~エの中から1つ選び、記号で答えなさい。

ア -...-の東側と比べて斜面の傾きが急であり、果樹園として利用されている。

イ -...-の東側と比べて斜面の傾きが急であり、針葉樹林として利用されている。

ウ -...-の東側と比べて斜面の傾きがゆるやかであり、果樹園として利用されている。

エ -...-の東側と比べて斜面の傾きがゆるやかであり、針葉樹林として利用されている。

地図1

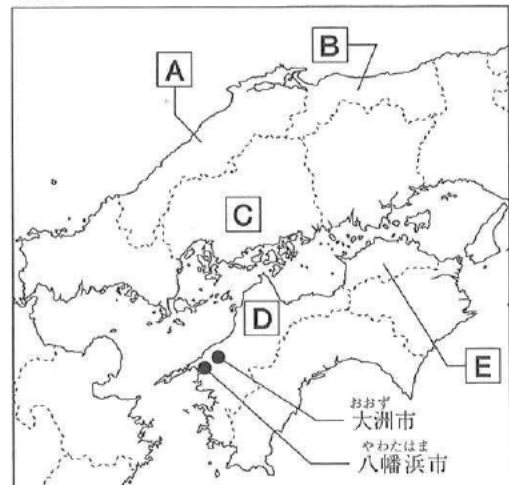


表2

県	総人口	65歳以上の人口	総面積	過疎地域の面積の割合
[A]				
[B]				
[C]				
[D]				
[E]				

注 総務省資料などにより作成

図2



注 国土地理院の電子地形図(タイル)により作成

- (4) グラフ2は、1960年度から2010年度における、野菜と果実の、国内自給率の推移を示している。グラフ3は、1960年度から2010年度における、野菜と果実の、国内生産量と輸入量の推移を示している。グラフ3のア～エは、野菜の国内生産量、野菜の輸入量、果実の国内生産量、果実の輸入量のいずれかを表している。グラフ2を参考にして、果実の国内生産量と、果実の輸入量に当たるものを、グラフ3のア～エの中から1つずつ選び、記号で答えなさい。

グラフ2



注 「数字でみる日本の100年」により作成

グラフ3



注 「数字でみる日本の100年」により作成

- (5) 瀬戸内工業地域に関する a, b の問いに答えなさい。
- a 関東地方から九州地方北部にかけては、瀬戸内工業地域などの工業地域が帯状につらなっている。関東地方から九州地方北部にかけてつらなっている、帯状の工業地域は何とよばれるか。その名称を書きなさい。

- b 表3は、2019年における、日本の原油の、生産量と輸入量を示している。瀬戸内工業地域の臨海部には、石油化学工業の工場群が形成されている。日本において、石油化学工業の工場群が、臨海部に形成されるのはなぜか。その理由を、表3から読み取れることに関連づけて、簡単に書きなさい。

表3

注 「日本国勢図会2020/21」により作成

- (6) 図3は、塩田において塩の生産を行っているようすを撮影した写真である。瀬戸内海沿岸では、潮の干満差や気候を生かし、遠浅の海岸に引き入れた海水を乾燥させて塩を生産する塩田が見られた。現在、瀬戸内海沿岸の一部の塩田の跡地では、その気候を生かした発電が行われるようになっている。瀬戸内海沿岸の一部の塩田の跡地で行われるようになっている、瀬戸内海沿岸の気候を生かした発電方法として最も適しているものを、次のア～エの中から1つ選び、記号で答えなさい。また、瀬戸内海沿岸の塩田の跡地がその発電方法に適している理由を、瀬戸内海沿岸の気候の特徴に着目して、簡単に書きなさい。

図3

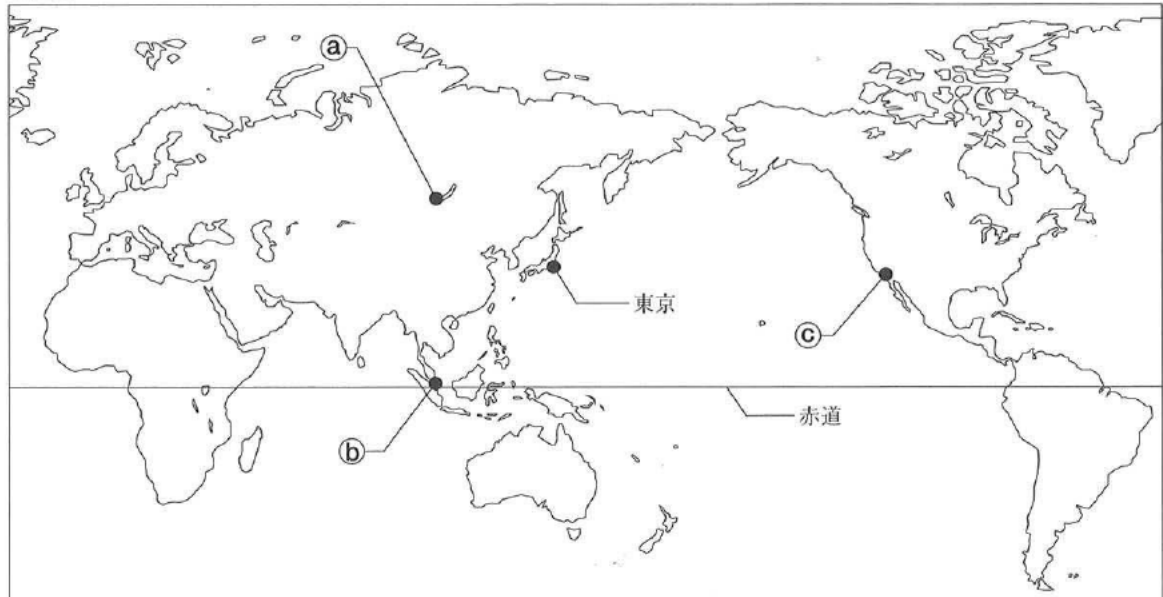


注 塩事業センターウェブサイトより

- ア 火力発電 イ 原子力発電 ウ 太陽光発電 エ 地熱発電

- 3 次の(1)~(4)の問いに答えなさい。なお、地図2は、緯線と経線が直角に交わった地図であり、地図2の中の①~③は都市を示している。(9点)

地図2



- (1) 次のア~エの中から、東京を通る緯線と同じ緯線が通らない大陸に当たるものを1つ選び、記号で書きなさい。

ア オーストラリア大陸 イ ユーラシア大陸
ウ アフリカ大陸 エ 北アメリカ大陸

- (2) 地図2の①~③に関する a, bの問いに答えなさい。

a グラフ4のア~ウ グラフ4

は、地図2の①~③のいずれかの都市の、気温と降水量を示したものである。グラフ4のア~ウの中から、①の都市の、気温と降水量を示したものを1つ選び、記号で答えなさい。



注 「令和3年 理科年表」により作成

b ③は、②と16時間の時差がある。②の現地時間が8月3日午前10時のとき、③の現地時間は何月何日何時であるかを、午前、午後の区別をつけて書きなさい。なお、サマータイム(夏に時間を標準時より一定時間進める制度)は考えないものとする。

- (3) 東南アジアに関する a, bの問いに答えなさい。

a 東南アジア地域の安定と発展を目指し、東南アジアの国々によって結成された組織の名称の略称は何とよばれるか。その略称を、アルファベットで書きなさい。

b 表4は、マレーシア、タイ、インドネシア、フィリピン、日本の、2000年、2010年、2018年における、人口と1人当たりの国民総所得を示している。近年、日本の製造業だけでなく、日本の商業・サー

表4
注「世界国勢図会2020/21」などにより作成

ビス業も東南アジアに進出するようになってきている。日本の商業・サービス業が東南アジアに進出する理由を、表4から読み取れることとあわせて、簡単に書きなさい。ただし、市場という語を用いること。

- (4) 農産物は、気候や需要量などの影響を受け、生産量が変化する。穀物は、主に食用や飼料用などに用いられるが、新たな用途が開発されると生産量が増加することがある。グラフ5は、1990年から2015年における、米、小麦、とうもろこしの、世界全体の生産量の推移を示している。地球環境問題に関係して生産量が増えている、グラフ5の㉠に当たるものは何か。次のア～ウの中から1つ選び、記号で答えなさい。また、㉠の生産量が増えている理由として考えられることを、地球環境問題に関係する新たな用途に着目して、簡単に書きなさい。

グラフ5

注「世界国勢図会2018/19」などにより作成

ア 米 イ 小麦 ウ とうもろこし

4 次の(1)～(3)の問いに答えなさい。(11点)

- (1) 次の [] 中の文は、日本国憲法第96条に定められている、憲法改正の手続きについてまとめたものである。この文に関する a～c の問いに答えなさい。

日本国憲法の改正は、㉠衆議院と参議院の、それぞれ総議員の(㉡)の賛成を得て、国会が発議する。この発議を受けて行われる(㉢)で、国民の承認を得ると改正案が成立し、㉣天皇が国民の名で公布する。

- a 文中の下線部㉠の議員は、それぞれ選挙で選ばれる。下線部㉠の議員選挙でとられている、得票数に応じて政党に議席を配分するしくみは何とよばれるか。その名称を書きなさい。
- b 文中の(㉡), (㉢)に当てはまる語として正しい組み合わせを、次のア～エの中から1つ選び、記号で答えなさい。
- ア ㉡ 過半数 ㉢ 国民投票 イ ㉡ 過半数 ㉣ 国民審査
ウ ㉡ 3分の2以上 ㉢ 国民投票 エ ㉡ 3分の2以上 ㉣ 国民審査
- c 文中の下線部㉣は、天皇が、内閣の助言と承認によって行う、形式的・儀礼的な行為の1つである。天皇が、内閣の助言と承認によって行う、形式的・儀礼的な行為は何とよばれるか。その名称を書きなさい。

[次のページに続く]

(2) 経済に関する a, b の問いに答えなさい。

a 次の の中の文は、日本銀行が行う公開市場操作について述べたものである。文中の (㉔) ~ (㉙) に当てはまる語として正しい組み合わせを、次のア~クの中から1つ選び、記号で答えなさい。

好景気(好況)のとき、日本銀行は国債を(㉔)。それによって一般の銀行は手持ちの資金が(㉕)のために、企業などへの貸し出しに慎重になる。その結果、景気が(㉙)。

- | | |
|---------------------|-----------------------|
| ア ㉔ 買う ㉕ 増える ㉙ 回復する | イ ㉔ 買う ㉕ 増える ㉙ おさえられる |
| ウ ㉔ 買う ㉕ 減る ㉙ 回復する | エ ㉔ 買う ㉕ 減る ㉙ おさえられる |
| オ ㉔ 売る ㉕ 増える ㉙ 回復する | カ ㉔ 売る ㉕ 増える ㉙ おさえられる |
| キ ㉔ 売る ㉕ 減る ㉙ 回復する | ク ㉔ 売る ㉕ 減る ㉙ おさえられる |

b 電気・ガス・水道などは、それぞれの地域で供給者が独占状態であることがほとんどである。これらは安定的に供給される必要があり、価格を自由に決めることが許されていない。電気・ガス・水道の料金のように、政府などが決定・認可する価格は何とよばれるか。その名称を書きなさい。また、この価格の決定・認可に政府などが関わり、価格の上昇などを規制する理由を、簡単に書きなさい。

(3) 1990年代から、地方自治に関する改革が行われている。資料2は、1999年に制定された、地方分権一括法の施行前後の、変化のようすをまとめたものである。グラフ6は、2006年度税制改正の前後の、年収500万円の世帯における、所得税(国に納める直接税)と住民税(都道府県と市町村に納める直接税)の、1年間の負担合計額を、所得税と住民税に分けて示している。グラフ7は、1997年度と2007年度の、全国の地方自治体の収入の総額を、自主財源と依存財源に分けて示している。国が地方自治に関する改革で行った、財政面での改革のねらいを、資料2から分かる、地方分権一括法を制定した目的と、グラフ6とグラフ7から分かる、改革の内容に関連づけて、70字程度で書きなさい。

資料2



注 総務省資料などにより作成

グラフ6



グラフ7



注 総務省資料により作成

注1 総務省資料により作成

注2 所得税と住民税の負担額は、独身者の場合を示している。

正答・正答例並びに採点基準及び採点上の留意事項

社 会

「配点」欄には、各問いの正答の場合の点数が示してある。
 「採点基準及び採点上の留意事項」の欄に*印が記されている問いを除き、部分点を与えてよい。
 部分点をどのように与えるかについては、各学校で決めること。

問題番号	正 答	正 答 例	配点	小計	採点基準及び採点上の留意事項	
1	(1)	a	中大兄皇子	1	18	*
		b	イ	1		*
	(2)	枕草子	1	*		
	(3)	a	エ	1		*
		b	領地が細分化し、幕府に緊急事態があったときに対応できなくなるから。	2		今までの相続方法を続けた場合におこる領地への影響とあわせて、資料1から読み取れる御家人が相続方法を変えた理由が適切に書いてあればよい。
		c	建武の新政	1		*
	(4)	a	南蛮貿易	1		*
		b	プロテスタントが広まったが、カトリックを信仰していたから。又は、宗教改革に対抗し、カトリックを守ろうとしたから。	2		宗教改革の影響が分かるように、ポルトガルがイエズス会の海外布教を支援した理由が適切に書いてあればよい。
		(5)	イ → ア → ウ	2		*
	(6)	a	綿糸の国内生産量が増え、原料としての綿花の需要が高まったから。	2		同じ趣旨のことが書いてあればよい。
		b	ア	1		*
	(7)	a	ウ	1		*
		b	投票権は平等に1票を与えられており、全加盟国に占める南北アメリカの割合が下がっているから。	2		同じ趣旨のことが書いてあればよい。
2	(1)	a	広島	1	12	*
		b	三角州，又はデルタ	1		*
	(2)	エ	1	*		
	(3)	ウ	2	*		
	(4)	果実の国内生産量	イ	2		
		果実の輸入量	ウ			
	(5)	a	太平洋ベルト	1		*
(6)	b	原油の多くを輸入しており、海外から船で運び入れるのに便利であるから。	2	表3から読み取れることに関連づけて、石油化学工業の工場群が臨海部に形成される理由が適切に書いてあればよい。		
	記号	ウ	2	同じ趣旨のことが書いてあればよい。		
理由	日照時間が長いから。又は、降水日数が少ないから。					
3	(1)	ア	1	9	*	
	(2)	a	イ		1	*
		b	8月2日午後6時		1	*
	(3)	a	ASEAN		1	*
		b	東南アジアの人口や1人当たりの国民総所得が増加しており、市場の拡大が期待できるから。		2	表4から読み取れることとあわせて、日本の商業・サービス業が東南アジアに進出する理由が適切に書いてあればよい。
	(4)	記号	ウ		1	*
理由		バイオ燃料として使われる量が増えているから。	2	同じ趣旨のことが書いてあればよい。		
4	(1)	a	比例代表	1	11	*
		b	ウ	1		*
		c	国事行為	1		*
	(2)	a	ク	2		*
		b	名称 公共料金 理由 国民の生活に大きな影響を与えるから。	1		*
	(3)	(略)	4	* 同じ趣旨のことが書いてあればよい。 地方自治体が自主的な活動を行いやすくするため、住民税の割合を高め、自主財源を増やすことで、地方自治を進めるための財源を確保するねらいが適切に書いてあればよい。		
計			50			